

Cuadernillo de verano

3º de Primaria



Nombre: _____

El mar Muerto

Estrictamente hablando, el mar Muerto no es un mar, es el lago más bajo del mundo. El agua desciende hasta allí desde el río Jordán y una gran cantidad de pequeños riachuelos, pero de él no sale ningún río o riachuelo. Por tanto, el mar Muerto solo pierde agua por evaporación.

Cuando el agua de la superficie se evapora por la acción del ardiente sol, deja tras de sí sales y minerales, dando lugar de esta manera a la formación de un lago con un contenido de sal del 28 por ciento, ¡ocho veces más salado que el agua típica del mar!

Consecuencia de esta elevada concentración salina es que el agua está tan densa que resulta imposible hundirse en ella; de hecho, uno puede sentarse en la superficie.

En el mar Muerto no se puede practicar el submarinismo, pero sí la natación, y de un modo maravilloso.

Sin embargo, toda esa cantidad de sal produce también una ausencia de plantas y peces, que no pueden vivir allí. De aquí surge el nombre de mar Muerto, porque no contiene vida alguna.

A. J. Armstrong, Preguntas sorprendentes, respuestas increíbles.



¿Qué es la realidad el mar Muerto?

¿Qué es la evaporación del agua?

Con los datos que aparecen en el texto, ¿puedes averiguar cuál es el porcentaje de sal en el agua típica de mar?

Busca en el diccionario la palabra denso y explica qué significa que el agua del mar Muerto es muy densa.

¿Qué actividad es muy fácil realizar en el mar Muerto y qué otra es imposible?

Resume con tus palabras la información más importante de la lectura.

Con las aguas del mar Muerto se elaboran cosméticos, como cremas. Si no son aguas apropiadas para la vida, ¿por qué crees que pueden ser beneficiosas para nuestra salud?



Sinónimos y antónimos. Completa la tabla.

Palabra	Sinónimo	Antónimo
bonito		
viejo		
triste		
subir		
tranquilo		
hablar		
lleno		
llorar		



Adivinagramas. Combina las letras de la palabra que aparece en mayúsculas y completa la frase con la palabra resultante.

Con nuestra _____ de colores BRILLAMOS bajo el sol.

Está CLARO que hoy hace demasiado _____.

Después de ANDAR por la playa voy a _____ en el mar.

Déjame acabar la FRASE antes de ir a comprar tu helado de _____.

Guarda las _____ de la petanca en su BOLSA.


Con el calor que está haciendo este _____, esto parece el AVERNO.

Para comer hemos traído _____ y unos RACIMOS de uva.

No sé si el _____ JUGARÁ contigo.

Nunca ACEPTAN perder cuando juegan a la _____.

ALMIDONA la ropa blanca y te traigo una _____.



Forma la familia de estas palabras. Escribe al menos cuatro palabras en cada familia.

Pan: _____

Mar: _____

Sal: _____

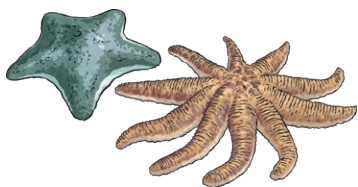
Montaña: _____

Libro: _____



5.

Escribe los números.



$$6 \text{ DM} + 9 \text{ UM} + 5 \text{ C} + 1 \text{ D} + 8 \text{ U} =$$

$$7 \text{ DM} + 4 \text{ UM} + 3 \text{ C} + 2 \text{ D} + 6 \text{ U} =$$

$$8 \text{ DM} + 4 \text{ C} + 8 \text{ D} + 5 \text{ U} =$$

$$9 \text{ DM} + 5 \text{ UM} + 9 \text{ D} + 6 \text{ U} =$$

6.

Fíjate en las pistas y averigua qué números pueden ser.

17.043

77.353

70.825

37.404

La cifra de los millares es 7: _____

La cifra de las unidades es 3: _____

La cifra de las decenas es menor de 5: _____

La cifra de las decenas de millar es 7: _____




Pablo ha encontrado 12 conchas en la playa. Su hermano ha encontrado 7, pero pierde 3 entre la arena. ¿Cuántas conchas les quedan entre los dos?

Clara ha ganado 2350 € este verano trabajando en una heladería. Se ha comprado una bicicleta que le ha costado 328 € y le ha hecho un regalo a su madre de 128 €. ¿Cuánto dinero le ha sobrado a Clara?

Mi padre sale a correr todas las mañanas. En una semana corre 60 kilómetros. El lunes recorrió 12 km, el martes recorrió 13 km, el miércoles, 9 km y el jueves, 10 km. ¿Cuántos kilómetros le quedan por recorrer esta semana?

En la casa de veraneo de mis abuelos hay 5 habitaciones con dos camas y tres sillas en cada una. En el porche hay 5 sillas más. ¿Cuántas camas y cuántas sillas hay en casa de mis abuelos?

He invitado a mis primos a cenar pizza esta noche. En total somos 5 personas. Hemos traído 4 pizzas que hemos cortado en 8 trozos cada una. ¿Cuántos trozos de pizza nos tocan a cada uno? ¿Sobrarán algún trozo?



Nombra al animal utilizando la leyenda para ayudarte. Después, escribe el grupo animal al que pertenece: aves, mamíferos, peces, anfibios o reptiles.

Leyenda:

tiburón

delfín

rana

cocodrilo

gato

humano

avestruz

herrerillo

tortuga

pez payaso




Nombre: **herrerillo**

Grupo: **aves**



Nombre: _____

Grupo: _____



Nombre: _____

Grupo: _____



Nombre: _____

Grupo: _____




Nombre: _____

Grupo: _____



Nombre: _____

Grupo: _____



Nombre: _____

Grupo: _____



Nombre: _____

Grupo: _____



Nombre: _____

Grupo: _____



Nombre: _____

Grupo: _____

Pistas

Horizontal

2. Tiene siete amiguitos,
todos ellos muy bajitos

3. Su malvada
madrastra no podrá
impedir que ella vaya
al baile y sea feliz

5. Es un niño diminuto,
pero cuando le roba las
botas al ogro no duda
ni un minuto

6. Entró en una casa
vacía y cuando sus dueños
llegaron ella dormía

8. Con una aguja
maldita se pinchará y
durante un siglo
entero dormirá

11. Esparce su polvo de hada para que Peter Pan pueda volar como si nada

12. Trabajó de marinero y vivió mil aventuras por el mundo entero

13. Vive en una torre encerrada, pero el príncipe la visita trepando por su larga
cabellera dorada

14. Su nariz crecía y crecía cada vez que una mentira decía

Vertical


1. A su abuelita una cesta con comida tiene que llevar, pero por desgracia tarda
demasiado en llegar.

4. En el bosque está perdida, pero junto a su hermano Hansel encuentra una casa
hecha de comida





7. Vive en el país de Nunca Jamás y como le gusta ser niño no quiere crecer más




9. Gracias a una lámpara maravillosa se hizo rico y encontró esposa



10. En una cueva encontró tesoros a montones, pero debía escapar de los 40 ladrones




 +  = 9

 +  +  +  = 8

 +  +  = 12

 +  = 10

 =